
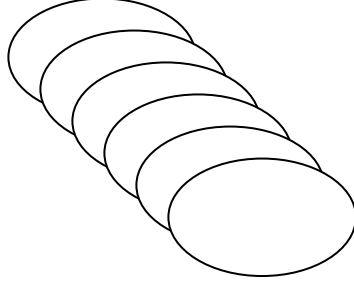
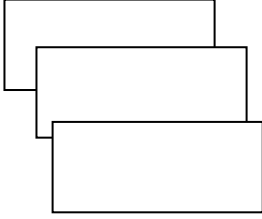


مدرسة الراشد الصالح الخاصة

مراجعته عامه على الفصل الدراسي الأول 2017-2018

السؤال الأول :

اكتب كل نسبة على هيئة كسر في ابسط صورته



المستطيلات الى الدوائر

المسحات الى أقلام الرصاص

السؤال الثاني : اكمل كلا مما يأتي

كرات الصوف	4		
عدد القبعات	8	6	

(1) تستخدم اربع كرات من الصوف في صنع 8 قبعات فكم عدد كرات الصوف الى ستحتاج اليها اذا ارادت صنع 6 قبعات

(2) انفق اربعة من الطلاب 12 درهم في وجبه الغذاء المدرسية بهذا المعدل , اوجد المبلغ الذي سينفقه 10 طلاب على نفس وجبه الغذاء المدرسية ؟

(3) في استطلاع للرأى اختار 9 من الطلاب من أصل 15 طالبا ماده الرياضيات كمادتهم المفضلة , عبر عن هذه النسبه في صورته كسر عشرى .....

(4) تبلغ نسبة الماء في تركيب نبات كرفس  $\frac{19}{20}$  , ماالنسبة المئوية لهذا العدد ؟

## مدرسة الراشد الصالح الخاصة

### مراجعته عامه على الفصل الدراسي الأول 2017-2018

(5) معدل الوحده ل 171 ميلا في 3 ساعات هو .....

(6) مالرقم الذى 44% منه يساوى 22؟.....

(7) تقدير ناتج حاصل ضرب العددين  $2.7 \times 5.8 =$  .....

(8) تقدير ناتج قسمه العددين  $40.39 \div 7 =$  .....

(9) تقدير ناتج ضرب  $2\frac{8}{9} \times \frac{1}{5} =$  .....

(10) المعكوس الضربى للعدد 5 هو .....

(11)  $\frac{2}{4}$  in = .....ft

(12) 6 pt =.....c

(13) المضاعف المشترك الأصغر (LCM) للعددين 9, 18 هو .....

**السؤال الثالث : (1)** اكتب كل نسبه مئوية فى صورته كسر عشرى وفى صورته عدد كسرى او فى صورته كسر فى ابسط صورته

(1) 350% .....

(2) 0.6 % .....



(2) تمثل المياه العذبة فى البحيرات 0.001 فقط من اجمالى مصادر المياه فى العالم , اكتب هذا الكسر العشرى فى صورته نسبه مئوية

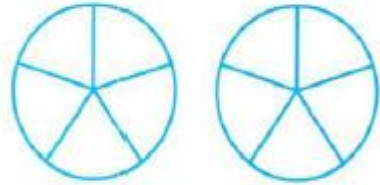
.....

(3) ارتفع تعداد سكان احدى المدن بنسبه 3% خلال عام , بنسبه 0.08 فى العام التالى , ثم بنسبه  $\frac{2}{50}$  فى العام الذى يليه , رتب هذه الزيادات من الأصغر الى الأكبر

مدرسة الراشد الصالح الخاصة

مراجعته عامه على الفصل الدراسي الأول 2017-2018

(5) ظلل النموذج لبيين 140%



(6) اكتب سياقاً قصصياً ل  $\frac{1}{4} \times \frac{1}{8}$  استخدم نموذجاً للحل

(7) قدر باستخدام النسبه من 100 ( 17% من 198 )

السؤال الرابع : مسائل حياتيه

(1) لديك رف يحمل  $25\frac{1}{2}$  رطلا كم عدد الكتب بحجم  $1\frac{1}{4}$  رطلا التي ممكن يحملها الرف ؟

## مدرسة الراشد الصالح الخاصة

### مراجعته عامه على الفصل الدراسي الأول 2017-2018

(2) تساوى السنه الواحده على كوكب زحل 29.4 سنه على كوكب الأرض , فكم سنه ارضية تقريبا تساوى 3.2 سنوات على كوكب زحل ؟



(3) يقدم متجر تخفيضات على الملابس الشتوية نسبتها 60% من السعر الأصلي وهناك معطف سعره 30 درهم في التخفيضات فما السعر الأصلي للمعطف ؟

(4) تتنفس سهام 4 مرات كل 10 ثواني اثناء رياضة اليوجا , بهذا المعدل كم عدد المرات التي تتنفسها سهام في دقيقتين من ممارسه رياضه اليوجا؟

(5) لدى عامل في محل بقاله 16 برتقاله و20 تفاحه و24 كمثرى يحتاج



العامل لان يضع عددا متساوياً من التفاح والبرتقال والكمثرى في كل سله ما اكبر عدد من السلات التي يمكن حصول عليه بحيث لا تبقى اى ثمره؟

(6) تملك دنيا 10 درهم واشترت الأغراض المبينه ادناه , كم تبقى مع دنيا؟



مدرسة الراشد الصالح الخاصة

مراجعته عامه على الفصل الدراسي الأول 2017-2018

(7) تشترك ساره واثنان من صديقاتها في تكلفه شراء كعكه هلاليه وتتكلف هذه الكعكه 5.49 درهم , اذا كانت ساره تمتلك مبلغا قدره 2 درهم , فكم سيتبقى لديها بعد دفع نصيبها ؟

.....  
.....  
.....

(8) في عام من الأعوام كان الطقس غائماً جزئياً بمعدل  $\frac{2}{5}$  من الأيام , مع افتراض ان عدد الأيام العام 365 يوماً , فكم عدد الأيام التي كان فيها الطقس غائماً جزئياً؟

.....  
.....

(9) يبلغ مساحة طاوله بلياردو 25.56 قدم وعرضها 3.6 قدم اوجد طول الطاوله ؟

.....