

# الدليل الإرشادي للفصل الدراسي الثاني

2017/2016



إدارة التقييم والامتحانات

الصف : الأول

المادة : العلوم

المهارة الاستدلال

الأمثلة :

1- اكتب رقم الصورة التي تتناسب مع الوصف المناسب لها في الجدول:



غائم	مشمس	ممطر	ثلجي

غائم	مشمس	ممطر	ثلجي
2	1	4	3

الإجابة :

# الدليل الإرشادي للفصل الدراسي الثاني

2017/2016

بصريح



إدارة التقييم والامتحانات

الصف : الأول

المادة : العلوم

المهارة : الاستنتاج

الأمثلة :

2- اكتب رقم الأداة المناسبة لكل مما يلي:

أ- أداة قياس كمية المطر. (.....)

ب- أداة قياس سرعة الرياح. (.....)

ج- أداة قياس درجة الحرارة. (.....)

د- أداة قياس اتجاه الرياح. (.....)



الإجابة :

أ	ب	ج	د
2	4	1	3

الدليل الإرشادي  
للفصل الدراسي الثاني

2017/2016



إدارة التقييم والامتحانات

الصف : الأول

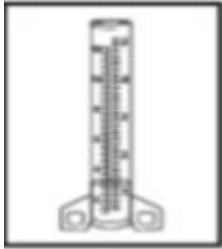
المادة : العلوم

المهارة : الاستنتاج

الأمثلة :

3- ضع دائرة حول الأداة التي يمكن أن يستخدمها خالد لقياس سخونة الجو في حديقة منزله.

1- 2- دوارة الرياح 3- الترمومتر 4- مقياس المطر



مقياس المطر



دوارة الرياح



الترمومتر

الإجابة

الترمومتر

الدليل الإرشادي  
للفصل الدراسي الثاني

2017/2016



إدارة التقييم والامتحانات

الصف : الأول

المادة : العلوم

المهارة : الاستدلال

الأمثلة :

4- ضع دائرة حول ما يمثله الشكل التالي:



السلسلة الغذائية

دورة الماء

دورة الحياة

الإجابة

دورة الماء

2017

إدارة التقييم والامتحانات

www.moe.gov.ae

الدليل الإرشادي  
للفصل الدراسي الثاني

2017/2016



إدارة التقييم والامتحانات

الصف : الأول

المادة : العلوم

المهارة : الاستنتاج

الأمثلة :

5- ضع دائرة حول الفصل الذي تفقد فيه الشجرة أوراقها:



1- الشتاء

2- الصيف

3- الخريف

4- الربيع

الاجابة

3- الخريف

الدليل الإرشادي  
للفصل الدراسي الثاني

2017/2016



إدارة التقييم والامتحانات

الصف : الأول

المادة : العلوم

المهارة : التوقع

الأمثلة :

6- أتوقع هبوب عاصفة عندما أرى :



(3) سحب المزن - ركامي



(2) سحب القزع



(1) السحاب الركامي

الإجابة

3- سحب المزن - ركامي



# الدليل الإرشادي للفصل الدراسي الثاني

2017/2016



إدارة التقييم والامتحانات

الصف : الأول

المادة : العلوم

المهارة : التقويم

الأمثلة

7- حوِّط الرّمز الذي يدلّ على الإجابة الصحيحة أو الخطأ في العبارات التالية:

م	العبرة	الاجبة
1	أقرب نجم إلى الأرض هو الشمس	 
2	تدور الأرض حول محورها دورة كاملة كل 24 ساعة.	 
3	يستغرق دوران القمر حول الأرض دورة واحدة في اليوم.	 
4	تعرف المواد التي لا نحصل عليها من الأرض بالمواد المصنعة.	 
5	الأداة التي يستخدمها الأرنب للحفر في التربة هي الأسنان.	 

5

4

3

2

1



الإجابة :

2017

إدارة التقييم والامتحانات

www.moe.gov.ae

# الدليل الإرشادي للفصل الدراسي الثاني

2017/2016



إدارة التقييم والامتحانات

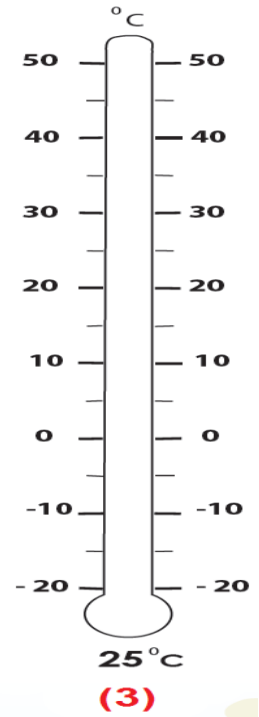
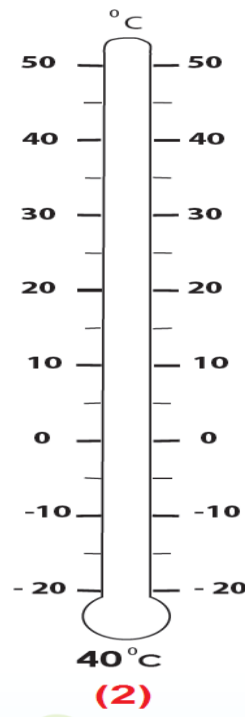
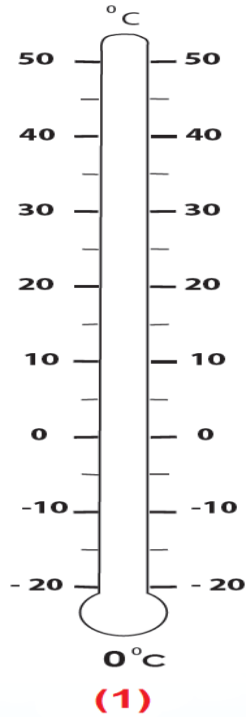

الصف : الأول

المادة : العلوم

المهارة : الاستدلال

الأمثلة:

8- لَوْن الترمومترات التَّالِيَةِ تَبَعًا لدرجة الحرارة المدوَّنة أسفل كلِّ منها، ثمَّ أجب.





# الدليل الإرشادي للفصل الدراسي الثاني

2017/2016



إدارة التقييم والامتحانات



الصف : الأول

المادة : العلوم

المهارة : الاستدلال

الإجابة :

8- لَوْن الترمومترات التالية تبعًا لدرجة الحرارة المدونة أسفل كلٍّ منها، ثمَّ أجب:



# الدليل الإرشادي للفصل الدراسي الثاني

2017/2016



إدارة التقييم والامتحانات

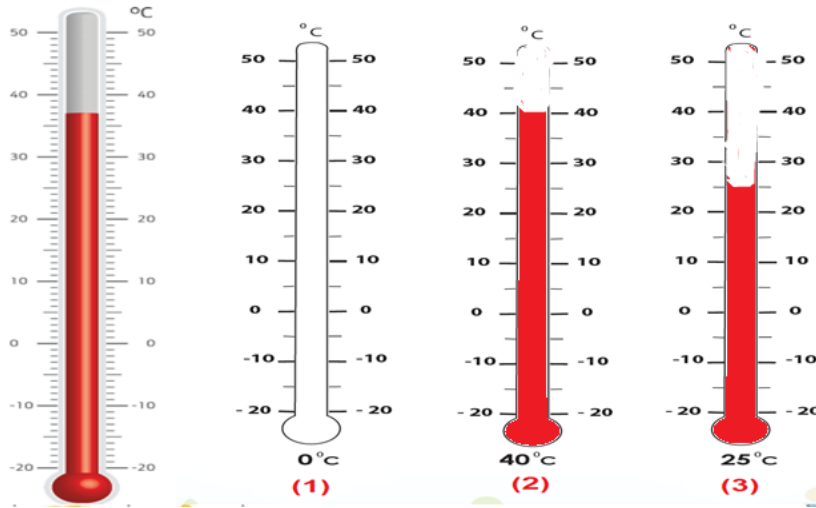
الصف : الأول

المادة : العلوم

المهارة : التصميم – التوقع - القياس

الأمثلة:

9- ضع في الفراغ رمز الإجابة الصحيحة:



- أ- الترمومتر الذي يقيس درجة حرارة الشمس في الصيف مباشرة هو رقم .....
- ب- الترمومتر الذي يقيس درجة حرارة الشمس في الصيف في الظل هو رقم .....

الإجابة :

ب	أ
3	2

الدليل الإرشادي  
للفصل الدراسي الثاني

2017/2016



إدارة التقييم والامتحانات

الصف : الأول

المادة : العلوم

المهارة : التوقع

الأمثلة:

10- اكتب بين القوسين الرّقم المناسب لحالات الظل المتكوّن للشجرة من الآتية:

أ- في منتصف اليوم      ب- في الصباح



(.....)



(.....)

الإجابة:

ب

أ

الدليل الإرشادي  
للفصل الدراسي الثاني

2017/2016



إدارة التقييم والامتحانات


الصف : الأول

المادة : العلوم

المهارة : التصنيف

الأمثلة:

11- صنّف الموارد الطبيعيّة و المواد المصنّعة بكتابة الرقم المناسب لكلّ منها في الجدول التالي:



مواد مصنّعة

موارد طبيعيّة

.....

.....

الإجابة :

مواد مصنّعة

موارد طبيعيّة

2, 4, 5

6, 3, 1

الدليل الإرشادي  
للفصل الدراسي الثاني

2017/2016



إدارة التقييم والامتحانات

الصف : الأول

المادة : العلوم

المهارة : المقارنة

الأمثلة:

12- انقل رقم الجملة التي تصف بيت القندس وعش طائر الحباك إلى المكان المناسب في الجدول:

- 1- بيته على الشجر.
- 2- بيته في الماء .
- 3- يبني من الطين و العصي .
- 4- يبني من الاغصان الصغيرة



عش طائر الحباك



بيت القندس

الإجابة :

عش طائر الحباك

4 ، 1

بيت القندس

3 ، 2