



أسئلة تدريبية لقادة المستقبل .. طلبة الصف الثاني عشر
مادة الجغرافيا القسم الأدبي الفصل الدراسي الثالث .. العام الدراسي 2013 / 2014

التدريب الأول :



أولاً : صحح ماتحته خط في العبارات الآتية . واكتب ماتم تصحيحه بين القوسين :

- 1- يقع المقر الدائم للوكالة الدولية للطاقة المتجددة (أرينا) في مدينة زايد بأبوظبي . (.....)
- 2- أكثر أقاليم الوطن العربي إنتاجاً للأسماك إقليم الخليج العربي وبحر العرب . (.....)
- 3- منجم كدية الجبل في الجزائر من أكبر مناجم الحديد في العالم. (.....)
- 4- تختص الناقلات جرانادا بتخزين النفط لحقل مبارك ومنها يضخ إلى الناقلات . (.....)
- 5- أقيم سد الشويب على نهر الفرات في سورية . (.....)

ثانياً : بين سبباً واحداً لكل مما يأتي :

- 6- انخفاض تكاليف إنتاج النفط العربي
- 7- ضآلة الإنتاج السمكي في الوطن العربي مقارنة بالإنتاج العالمي
- 8- اختيار ميناء جبل الظنة ميناء لتصدير نفط الحقول البرية في دولة الإمارات العربية المتحدة
- 9- ارتفاع نسبة استهلاك الغاز الطبيعي في الوطن العربي مقارنة بنسبة استهلاك النفط

ثالثاً : 10- استكمل الجدول الذي أمامك بكتابة اسم المفهوم / المصطلح أو التعريف المناسب وفق الآتي :

اسم المفهوم /المصطلح	التعريف
.....	خط أنابيب يبدأ من العين السخنة على خليج السويس إلى ميناء سيدي كرير على ساحل البحر المتوسط .
الدورة الزراعية
النفط
.....	هي الفرق بين الطلب على السلع الغذائية وبين الإنتاج المحلي لها.
.....	تربية الأسماك في أحواض خاصة لزيادة الإنتاج .

11- سجل اثنتين من المشكلات التي تعيق نمو الثروة الحيوانية في الوطن العربي .

.....*

.....*

إجابة التدريب الأول :



- أولاً:صحح ماتحته خط في العبارات الآتية , واكتب ماتم تصحيحه بين القوسين :
- 1- (مصدر) 2- (إقليم المحيط الأطلنطي) 3- (غارجبيلات) 4- (الناقله بركة) 5- (سد الطبقة)

ثانياً: بين سببا واحدا لكل مما يأتي :

- 6- انخفاض تكاليف إنتاج النفط العربي . (قلة عمق الآبار , ضخامة إنتاج الآبار النفطية العربية , انخفاض أجور الفنيين العاملين في مجال النفط العربي قياسا بنظرائهم في العالم .)

- 7- ضآلة الإنتاج السمكي في الوطن العربي مقارنة بالانتاج العالمي . (استخدام الأساليب البدائية في الصيد ومعداته , تدني الكفاءة الإنتاجية للمصايد الطبيعية , زيادة معدلات الصيد عن مستوى الإستغلال الأمثل مما يؤدي إلى الإستنزاف , نقص الخبرات والكوادر الفنية العربية العاملة في مجال الصيد , تلوث المياه العربية الناتج عن التوسع الصناعي والعمراني .)

8- اختيار ميناء جبل الظنة لتصدير نפט الحقول البرية في دولة الإمارات العربية المتحدة (لعمق مياهه وهدونها مما يناسب رسو الناقلات الضخمة)

9- ارتفاع نسبة استهلاك الغاز الطبيعي في الوطن العربي . (انخفاض القيمة التصديرية للغاز الطبيعي قياسا بالنفط , تلبية الإستهلاك المحلي وإستخدامه كوقود , يدخل ضمن الصناعات البتروكيمياوية)

ثالثا :-

10: استكمل الجدول الذي أمامك بكتابة اسم المفهوم / المصطلح أو التعريف المناسب وفق الآتي :

أسم المفهوم / المصطلح	التعريف
خط أنابيب سوميد المحلي (2)	***
***	تعاقب زراعة الأرض بمحاصيل معينة ضمن مدة زمنية محددة وتكرر هذه الصورة بانتهاء المدة المذكورة بغرض الحفاظ على خصوبة التربة ورفع طاقتها الإنتاجية
***	مركب كيميائي من أصل عضوي يعد الكربون والهيدروجين من أهم مركباته
الفجوة الغذائية	***
مصيد الأسماك المستزرعة	***

11- سجل اثنين من المشكلات التي تعيق نمو الثروة الحيوانية .

- انحسار المساحات الرعوية والرعي الجائر
 - ضعف الرعاية البيطرية
 - انتشار الأمراض بين الحيوانات
 - انتشار تربية الحيوانات على شكل حيازات صغيرة .
 - محدودية زراعة محاصيل العلف وتأخر تصنيع المنتجات الحيوانية.
- التقاليد الاجتماعية السائدة في بعض المناطق العربية(تقبل الإجابة الصحيحة)



أولاً: ضع دائرة حول الإجابة الصحيحة من بين البدائل التي تلي كل عبارة من بين الأقواس فيما يأتي :

- 12- قناة الشيخ زايد (رحمه الله) في مصر هي القناة الرئيسية لمشروع (الفيصل – كركوك – جونجلي – توشكي).
- 13- من الواحات العربية التي توجد عند حواف بعض الجبال العربية (الذيد – الرياض – الهفوف – الداخلة) .
- 14- تحتل دولة الإمارات العربية المتحدة في إنتاج النفط على مستوى الوطن العربي المركز (الأول – الثاني – الثالث – الرابع) .
- 15- من أكبر حقول الغاز الطبيعي في قطر حقل (عوالي – فهود – القبة الشمالية – الصجعة) .
- 16- يختص ميناء جزيرة داس بدولة الإمارات العربية المتحدة بنقل وتصدير نפט حقل (فتح – أم الشيف – باب- مبرز) .

ثانياً : سجل نتيجة واحدة لكل مما يأتي :

17- قرب حقول النفط العربي من موانئ التصدير .

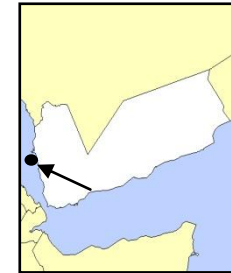
18- مساهمة الإنتاج الزراعي بنصيب مرموق في الناتج المحلي الإجمالي للدول العربية .

19- توجه دولة الإمارات العربية المتحدة للحصول على الطاقة المتجددة " الطاقة الشمسية " .

20- الارتفاع النسبي لمعدلات درجات الحرارة على الزراعة في الوطن العربي .

ثالثاً :

■ لاحظ الخرائط التي أمامك ، ثم استنتج المسمى الجغرافي الذي يشير إليه السهم واكتبه أسفل كل خريطة .



21-ميناء تصدير النفط 22- سد ماضي..... 23- خط أنابيب نفط دولي 24- مصفاة لتكرير النفط

.....

قدم مقترحين اثنين قابلين للتنفيذ لعلاج القضايا الجغرافية الآتية في الوطن العربي .

25- ضمان تنمية زراعية متطورة .

-
-

26- تنمية قطاع الثروة السمكية .

-
-

27- تحقيق الأمن الغذائي.

-



إجابة التدريب الثاني :

أولاً :ضع دائرة حول الإجابة الصحيحة من بين البدائل التي تلي كل عبارة من بين الأقواس فيما يأتي :

12- (توشكى) 13- (الذيد) 14- (الثالث)

15- (القبة الشمالية) 16- (أم الشيف)

ثانياً: سجل نتيجة واحدة لكل مما يأتي :

17- قرب حقول النفط العربي من موانئ التصدير . (& سهولة تصدير النفط من موانئ التصدير – قلة تكاليف النقل والتصدير)

18- مساهمة الإنتاج الزراعي بنصيب مرموق في الناتج المحلي الإجمالي للدول العربية . (& مصدرا لدخل حوالي 40% من سكان الوطن العربي

& يقوم بتلبية حاجاتهم الإستهلاكية الغذائية & وإسهامه في تنشيط الصناعات التحويلية)

19- توجه دولة الإمارات العربية المتحدة للحصول على الطاقة المتجددة " الطاقة الشمسية "

(& طاقة مأمونة ونظيفة ورخيصة الثمن من الصحاري العربية & الحفاظ على البيئة .)

20- الإرتفاع النسبي لمعدلات درجات الحرارة على الزراعة في الوطن العربي .

(& امتداد فصل النمو في الوطن العربي طوال العام , أي الفصل الذي يخلو من حدوث الصقيع . & إتاحة الفرصة لزيادة الإمكانيات الزراعية

وتنوع المحاصيل الزراعية)

ثالثا :

- لاحظ الخرائط التي أمامك ، ثم استنتج المسمى الجغرافي الذي يشير إليه السهم واكتبه أسفل كل خريطة .
- 21 – رأس عيسى 22- السد العالي 23- خط أنابيب التابلاين 24- مصفاة أم النار

قدم مقترحين اثنين قابلين للتنفيذ لعلاج القضايا الجغرافية الآتية في الوطن العربي .

25- ضمان تنمية زراعية متطورة .

- التوسع في استخدام الآلات الزراعية في إعداد الأرض للزراعة وعمليات الري والحصاد .
- اتباع نظام الدورة الزراعية أي تعاقب زراعة الأرض بمحاصيل معينة ضمن مدة زمنية محددة .
- تشجيع المؤسسات العلمية الزراعية وتطوير البحوث الزراعية .

26- تنمية قطاع الثروة السمكية .

- الإهتمام برفع كفاءة المصايد الطبيعية والمستزرعة / التنسيق المستمر بين الدول العربية في مجالات توحيد القوانين لحماية المخزون السمكي / تشجيع الإستثمار العربي في مجال الثروة السمكية / تقديم الدعم الفني والمالي لمشروعات الصيد / حماية المياه من التلوث .

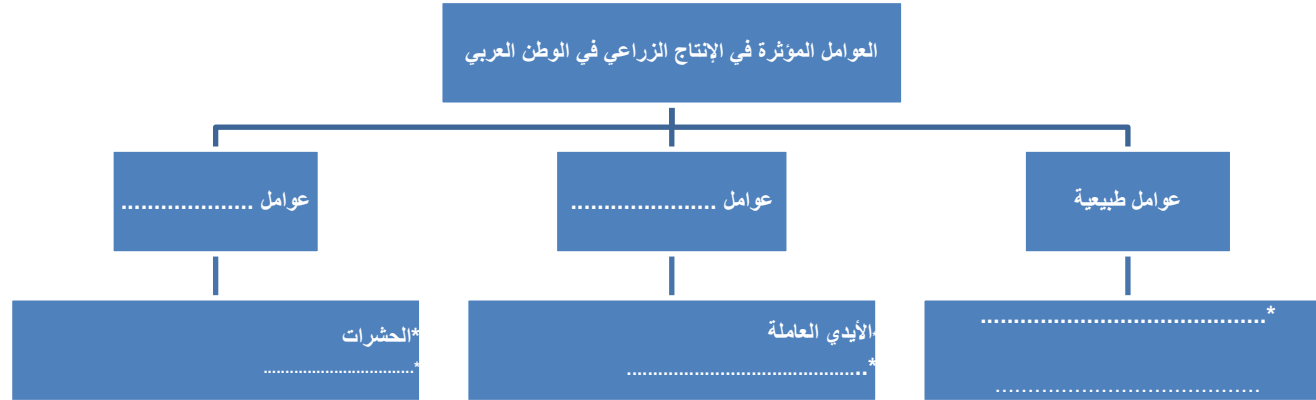
27- تحقيق الأمن الغذائي.

- استخدام التقنية الزراعية المتقدمة ، وضع الحلول المناسبة لمعوقات الإنتاج الزراعي العربي للوصول إلى الإستخدام الأنسب للموارد المتاحة ولضمان استمرار الإنتاج .
- الإهتمام بتكوين مخزون غذائي عربي لمواجهة احتمال وقوع الأزمات والمحافظة على الأسعار وتقليص حجم الإعتماد على السوق الأجنبية ، وضع استراتيجية عربية موحدة للأمن الغذائي ، ورسم الخطط اللازمة لتنمية الزراعة الإستغلال الأمثل للثروة الحيوانية والسمكية ، ضمان حرية تبادل السلع الغذائية بين الدول العربية واتباع سياسة تسويقية عربية مشتركة ، ترشيد الإستهلاك في الدول العربية . (ومايراه المصحح صحيحا)



التدريب الثالث :

أولاً : 28- استكمل بناء المخطط الذهني الآتي :



ثانياً : 29- صنف المسميات الآتية بوضعها في مكانها الصحيح وفق الجدول التالي :

(مسقالة - بترولالين - زاكوم — الفاوم - أكجوجت).

مناجم حديد	خطوط أنابيب نفط	موانئ تصدير نفط	مناجم فوسفات	حقول نفط
.....*****

▪ 30 – اكتب اثنين فقط لكل مما يأتي :

➤ الآثار الاقتصادية الناجمة عن إنتاج النفط في الوطن العربي .

.....

.....

➤ مزايا الأمطار التي تسقط شتاء على الوطن العربي .

.....

.....

➤ أشكال تدخل الحكومات العربية في القطاع الزراعي " السياسة الزراعية " .

.....

.....

ثالثاً: تأمل خريطة الجناح الإفريقي للوطن العربي التي أمامك ؛ ثم أجب عن الأسئلة الآتية :



31- استكمل رسم الحدود البرية للجزائر .

32- اكتب ما تشير إليه الحروف على الخريطة .

(أ) سد مائي

(ب) نوع التربة السائدة

(ج) حقل نفط

(د) حقل غاز طبيعي

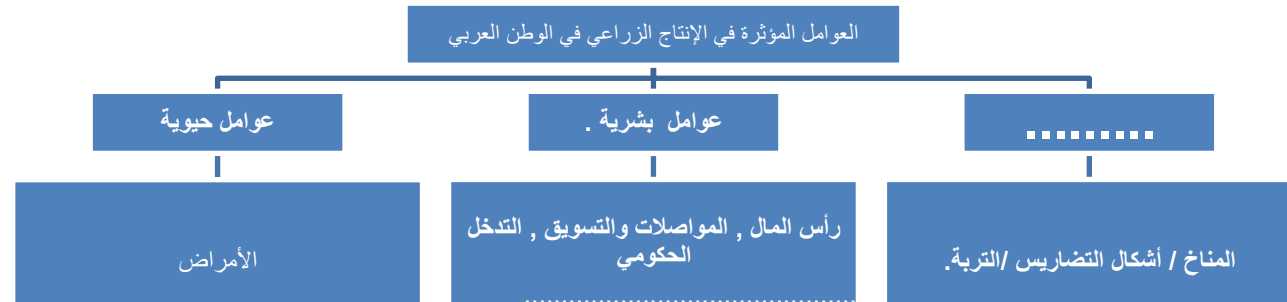
33- بم تفسر ارتفاع خصوبة تربة البحر المتوسط في المنطقة المشار إليها بالحرف (هـ) ؟

..... -



إجابة التدريب الثالث :

أولاً : 28- استكمل بناء المخطط الذهني الآتي :



ثانياً :-

- 29- صنف المسميات الآتية بوضعها في مكانها الصحيح وفق الجدول التالي :
(مسقالة - بترولالين - زاكوم — الفاو— أكجوجت).

حقول نפט	مناجم فوسفات	موانئ تصدير	خطوط أنابيب	مناجم حديد
زاكوم	مسقالة	, الفاو	بترولالين	أكجوجت

▪ 30 - اكتب اثنين فقط لكل مما يأتي :

- الآثار الاقتصادية الناجمة عن إنتاج النفط في الوطن العربي
&زيادة الدخول المحلية في الدول العربية . &استخدام النفط والغاز الطبيعي كمصدرين أساسيين للطاقة في الوطن العربي ,
وكمادة خام في الصناعات البتروكيمياوية مثل صناعة الأسمدة الأزوتية . & إسهام النفط العربي في تشغيل الأيدي العاملة
العربية والتخفيف من حدة البطالة . & تدهور بعض الحرف التقليدية في بعض الدول العربية النفطية مثل حرفة الغوص على
اللؤلؤ .
- مزايا الأمطار التي تسقط شتاء على الوطن العربي .
&تسقط الأمطار شتوية على مناطق البحر المتوسط بكميات خفيفة أو معتدلة وتدوم طويلا نسبيا مما يسمح بتسرب معظم المياه
الساقطة إلى أعماق التربة . & تعد الأمطار الشتوية وما يصاحبها من طقس بارد بشكل عام مثالية لنمو بعض المحاصيل من
مثل القمح والشعير ولا تناسب بعض المحاصيل التي تتطلب جوا مشمساً ودرجات حرارة عالية كالذرة .
- أشكال تدخل الحكومات العربية في القطاع الزراعي " السياسة الزراعية "
. تحديد المساحات المزروعة والأماكن المخصصة للزراعة & تحديد أنواع المحاصيل الزراعية & دعم المزارعين وتشجيعهم
& إقامة مشروعات الري

ثالثاً: تأمل الخريطة التي أمامك, ثم أجب عن الأسئلة الآتية :

31 - استكمل رسم الحدود البرية للجزائر

32- اكتب ما تشير إليه الحروف على الخريطة .

(أ) سد مائي ... (سد محمد الخامس) .

(ب) التربة الرملية .

(ج) حقل العلمين / الرزاق .

(د) حقل غاز طبيعي ... (حاسي الرمال) .

33- ارتفاع نسبة المواد العضوية فيها وتقبل الإجابة الصحيحة .