


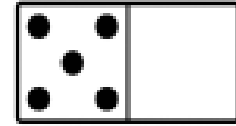


مدرسة الراشد الصالح الخاصة - دبي

أوجد ناتج الجمع أفقياً ورأسياً :


$$\begin{array}{r} 6 \\ + 6 \\ \hline \square \end{array}$$


$$\begin{array}{r} 1 \\ + 5 \\ \hline \square \\ 5 \\ + 1 \\ \hline \square \end{array}$$




$$5 + 0 = \underline{\quad}$$

$$0 + 5 = \underline{\quad}$$



$$5 + 6 = \underline{\quad}$$

$$6 + 5 = \underline{\quad}$$

أوجد المجموع في كل ممايلي :

$$1) \quad \begin{array}{r} 4 + 7 + 4 = \underline{\quad} \\ \square \end{array}$$

$$2) \quad \begin{array}{r} 4 \\ 6 \\ + 2 \\ \hline \square \end{array}$$

$$3) \quad 5 + 6 + 5 = \underline{\quad}$$

$$4) \quad 9 + 2 + 2 = \underline{\quad}$$

$$5) \quad \begin{array}{r} 3 \\ 6 \\ + 3 \\ \hline \end{array}$$

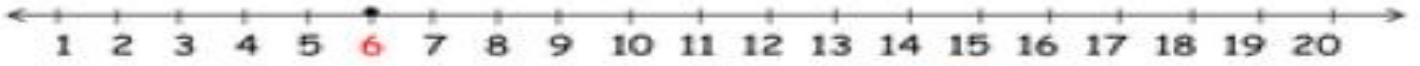
$$6) \quad \begin{array}{r} 8 \\ 1 \\ + 1 \\ \hline \end{array}$$

$$7) \quad \begin{array}{r} 1 \\ 9 \\ + 4 \\ \hline \end{array}$$

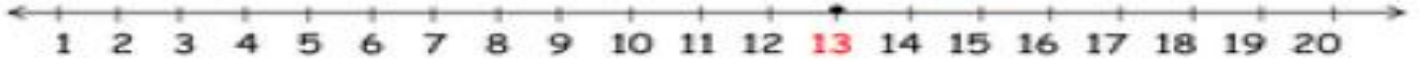
$$8) \quad \begin{array}{r} 4 \\ 8 \\ + 6 \\ \hline \end{array}$$

عد تنازلياً للطرح :


$6 - 4 = \underline{\quad}$



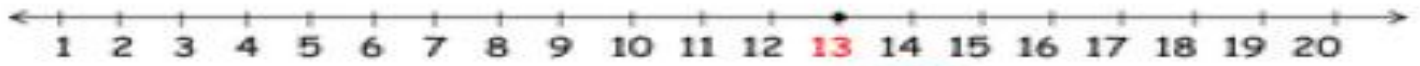
$13 - 5 = \underline{\quad}$



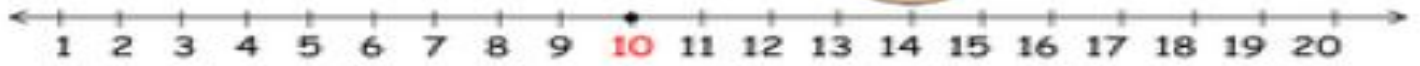
$8 - 2 = \underline{\quad}$



$13 - 6 = \underline{\quad}$



$10 - 9 = \underline{\quad}$



حل المسائل التالية :


1) لدى هند وفهد عدد متساوٍ من الفراولة ومجموع ما لديهما 8 فلولات ، كم عدد الفراولة لدى كل منهما ؟



2) اشترى خالد 5 أقلام رصاص واشترى أحمد عدداً متساوياً لعدد أقلام خالد ، كم إجمالي عدد الأقلام لديهما



مكتبة بها 4 كتب على الرف الأول ، والعدد ذاته على الرف الثاني ، و 3 كتب على الرف الثالث . ما مجموع الكتب على الرفوف الثلاثة؟



حل المسائل الآتية :

(1) يجمع خالد 10 أصداف ، ثم يعطي صديقه حمد 7 أصداف .
كم عدد الأصداف المتبقية مع خالد ؟



(2) ترى ميثا 14 فراشة على الشجرة ، طارت منها 8 فراشات بعيدًا .
كم عدد الفراشات التي لا تزال على الشجرة ؟



(3) مع مها 12 درهمًا ، اشترت بـ 5 دراهم .
كم درهمًا تبقى معها ؟



(4) رأى علي 15 سيارة سباق . ورأت خولة 6 سيارات سباق .
كم سيارة سباق رآها علي أكثر من خولة ؟



ثانيًا: اكتب المجموع . (يمكنك استخدام خط الأعداد للجمع)



11) $5 + 1 =$

12) $8 + 2 =$

ثالثًا: أوجد المجموع .

13) 9


+ 8

14) 6

+ 7


رابعًا: أكمل جملة الجمع العددية . ثم أوجد المجموع .

15)

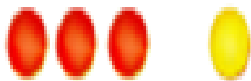


___ + ___ = ___

16)

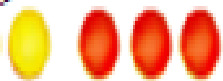


___ + ___ = ___



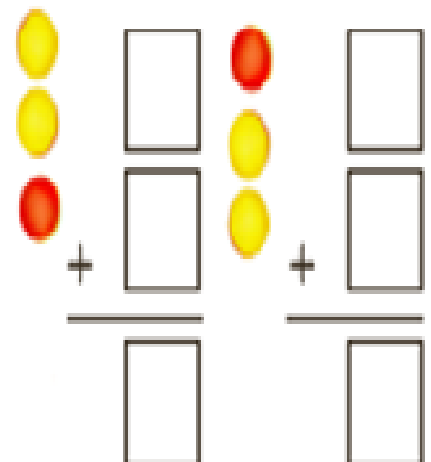
___ + ___ = ___

17)

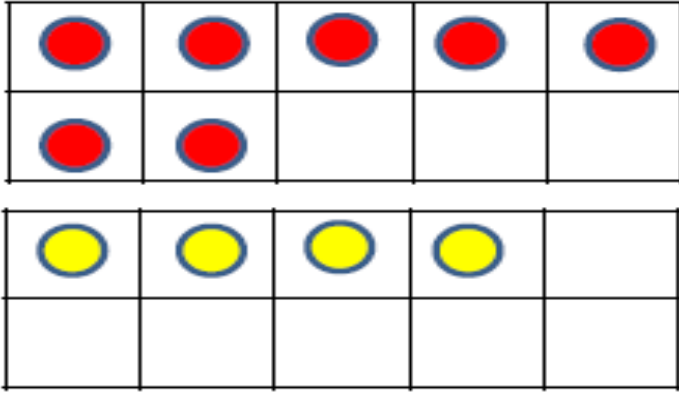


___ + ___ = ___

18)



كون العدد 10 للجمع



1) $7 + 4 =$ _____

$$\begin{array}{r} \boxed{9} \\ + \boxed{9} \\ \hline \boxed{} \end{array} \quad \rightarrow \quad \begin{array}{r} \boxed{10} \\ + \boxed{} \\ \hline \boxed{} \end{array}$$

أ) اجمع ثم حوِّط المضاعفات :

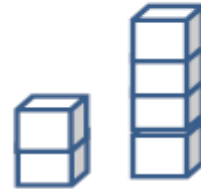
1) $4 + 4 =$ _____



2) $3 + 5 =$ _____

6) _____ + _____ = _____

3) $8 + 8 =$ _____



4) $3 + 3 =$ _____

7) _____ + _____ = _____

5) $9 + 5 =$ _____

ب) اجمع ثم ضع خطأً تحت شبه المضاعفات :

1) $5 + 4 =$ _____



4) _____ + _____ = _____

2) $7 + 5 =$ _____



3) $2 + 2 =$ _____

5) _____ + _____ = _____

مع تمنياتي للجميع بالنجاح والتوفيق